

日本史 B 問題

(60分)

【注意】・日本史 B 受験者は、次の表に従って4題を解答してください。

選択コース	解答する大問番号
①原始から先に学習している人	①②③④-----
②近現代から先に学習している人	-----⑤⑥⑦⑧

1 室町時代から安土・桃山時代にかけての政治や社会に関する次の文章 A・B を読み、下の問い(問1~11)に答えよ。(史料は、一部省略したり、書き改めたりしたところもある。)
(配点 25)

A 室町時代は「一揆の時代」ともいわれる。(ア)一揆とは参加者が協力して目的を実現するために団結すること、あるいは団結して結成された集団のことをさし、室町時代には武士から庶民までさまざまな階層で広く一揆が結成され、神仏に誓約して団結を深めることも多かった。

鎌倉時代にも一揆の結成がみられたが、A の解体による武士団の分裂・対立を背景に動乱が長期化した(イ)南北朝の動乱期には、在地の武士である国人が一揆を結ぶ動きが各地に広がった。国人による一揆は、動乱のなかで(ウ)権限を拡大された守護が国内の武士を統制下に入れ家臣化しようとした動きへの対抗や、国人相互間の紛争を自主的に解決するなどの目的を持ち、地域によっては長く存在したものもあった。

南北朝の動乱は足利義満のもとで終息し、(エ)義満は動乱のなかで強大となった有力守護の抑圧をはかって、将軍(室町殿)の権威を高めた。以後、将軍は専制君主として守護のうえに君臨したようにみえるが、一方で将軍といえども有力守護の協調による「大名の一揆」の意見を無視することはできなかった。


室町時代中期には、惣村を基盤とした百姓とともに一部の武士や都市民が、徳政を求めて蜂起した土一揆(徳政一揆)が京都周辺で発生し、幕政を動揺させるようになった。そのようななかで、専制的な政治を行い守護を抑圧していた将軍が暗殺されたことを契機に起こった B の徳政一揆に対して、幕府は初めて徳政令を出した。以後、徳政を求める土一揆が頻発するようになり、しばしば徳政令が発令された。

問1 空欄 A B に入る語句の組合せとして正しいものを、次の1~4のうちから一つ選び、番号で答えよ。

- 1 A 惣領制 B 正長 2 A 惣領制 B 嘉吉
3 A 貫高制 B 正長 4 A 貫高制 B 嘉吉

問2 下線部(ア)に関連して、次の図は戦国時代に結ばれた武士による一揆契状の署名である。このような署名の形式は、江戸時代の百姓一揆では首謀者を隠すために用いられた場合があったが、中世の一揆では一般に署名者相互のどのような関係を示そうとしたものであったか。解答欄の書き出しに続けて、簡潔に説明せよ。

(署名者相互が)



問3 下線部(イ)の出来事に関して述べた次の文 I~III について、古いものから年代順に正しく配列したものを、下の1~6のうちから一つ選び、番号で答えよ。

- I 足利直義と高師直の対立をきっかけに、観応の擾乱が起こった。
II 南朝方の北畠顕家・新田義貞らが戦死し、後醍醐天皇も亡くなった。
III 九州探題の今川了俊(貞世)が、南朝方の懐良親王の勢力を制圧した。
- 1 I-II-III 2 I-III-II 3 II-I-III
4 II-III-I 5 III-I-II 6 III-II-I

問4 下線部(ウ)に関連して、守護に一国内の荘園・公領の年貢の半分を徴発する権限を認めた室町幕府の法令を何というか、漢字3字で答えよ。

問5 下線部(エ)に関して、有力守護の大内義弘が滅ぼされた事件を何というか、答えよ。

B 応仁の乱が始まると、(オ)幕府・将軍の力は弱体化するとともに、争乱は全国に及んだ。近畿地方周辺では争乱から地域の秩序を守るために、武士だけでなく地域住民も含めて団結した国一揆（惣国一揆）が結成された場合もあった。また、(カ)日蓮宗や一向宗（浄土真宗本願寺派）の信者・門徒はそれぞれ一揆を結んで団結し、大名勢力と結びつきながら互いに争うこともあった。領国の一円支配をめざした戦国大名にとっても、これら一揆勢力との関係は重要であった。戦国大名が制定した分国法には、しばしば国人一揆の規約を取り込んだものがみられ、戦国大名の権力も国人などからなる家臣の意向に支えられていた面があったことが指摘されている。

戦国時代末期に登場し、各地の征服を進めた(キ)織田信長にとって、最大の敵は一向一揆であった。信長が勢力を拡大した東海・畿内・北陸などでは一向宗が大きな勢力を持っており、(C)本願寺を頂点として団結していた。一向一揆は信長の支配に対して、11年にわたって各地で抵抗したが、信長は朝廷を仲立ちとした講和の形で(C)本願寺を屈服させた。

信長のあとを継ぎ全国統一を完成した豊臣（羽柴）秀吉も、一向一揆などとの戦いで苦戦した経験があり、本願寺と和解するとともに統制下においた。彼が初めは認めていた(ク)キリスト教を抑圧するように方針を転換したのも、キリスト教徒が一向一揆と同様な動きを起こすことを警戒するようになったためであったと考えられる。また、秀吉が百姓から武器を没収する(ケ)刀狩を行わせたのも上一揆や一向一揆の根絶が大きな目的であった。

こうして近世には一揆は抑圧され下火となり、さらに江戸幕府は一揆そのものを禁圧したが、百姓を中心とした一揆は以後も継続していった。

問6 空欄(C)に入る語句を、漢字2字で答えよ。

問7 下線部(オ)に関連して、応仁の乱以降の将軍を示した次の表に関する下の会話を読み、空欄(D)～(F)に適する語句・記述の組合せとして最も適当なものを、あとの1～8のうちから一つ選び、番号で答えよ。

代	氏名	人物の出自	在職時期(年)	離職の理由	没年	没地と理由
9	足利義尚	足利義政の子	1473～89	死去	1489	近江陣中で病死
10	足利義材	足利義視の子	1490～93	明応の政変で追放	—	—
11	足利義澄	足利政知の子	1494～1508	大内軍の上洛で京都を退去	1511	近江で病死
10(再)	足利義植	10代と同一人物	1508～21	管領細川高国と対立して京都を退去	1523	阿波で病死
12	足利義晴	11代の子	1521～46	13代へ譲位	1550	近江で病死
13	足利義輝	12代の子	1546～65	死去	1565	京の二条御所で敗死
14	足利義榮	11代の孫	1568	死去	1568	阿波(もしくは摂津)で病死
15	足利義昭	12代の子	1568～73 (注1)	織田信長と対立し京都から追放	1597	大坂で病死

(注1) 足利義昭は形式上1588年まで将軍であったとする見方もある。

先生：これは応仁の乱以降の室町幕府の将軍をまとめた表です。これをよくみてみましょう。

生徒：9代将軍の足利義尚は(D)の子どもで、応仁の乱の原因となった人物の一人だとこの前の授業で習いましたよね。

先生：そうですね。面白いのは次の10代足利義材は義尚のライバルとされた義視の子どもなのです。しかもこれを擁立したのは(D)だといわれているのですよ。

生徒：義材は一度やめた後、もう一度将軍になったのですか。

先生：そうです。明応の政変で将軍職を奪われるのですが、その黒幕も(D)だといわれているのですよ。その後、義材は各地の大名を頼って転々とするのですが、大内氏の力で15年後に将軍に返り咲き、かわりに11代将軍の足利義澄が追い出されたのです。

生徒：すごいですね。表をみると、(E)。このように将軍の権力は不安定で、幕府も弱体化していたのに、どうして幕府は存続したのですか。

先生：そうですね。難しい問題ですが、権威を与える存在として幕府・将軍は必要だったからと考えられるのではないのでしょうか。

生徒：同じことは天皇にもいえるかもしれないですね。 **F** のですね。

先生：最後の将軍足利義昭は織田信長が擁立し、しかも後にその信長が追放したことで有名ですね。でもその没年をみてください。彼は信長よりはるかに長生きし、豊臣秀吉が死ぬ前年に亡くなっているのですよ。晩年には秀吉から領地を与えられ、秀吉の話し相手を務めたりしたようですね。

生徒：それは知りませんでした。幸せな晩年だったのかもしれないですね。

- D** a 北条政子
b 日野富子
- E** c 親から将軍職を譲られた将軍は一人もいませんね
d 京都で病死した将軍は一人もいませんね
- F** e 下剋上の時代だったので、古代以来の身分秩序は完全に崩壊していた
f 下剋上の時代でも、古代以来の身分秩序は完全に崩壊していたわけではなかった

- 1 a-c-e 2 a-c-f 3 a-d-e 4 a-d-f
5 b-c-e 6 b-c-f 7 b-d-e 8 b-d-f

問8 下線部(カ)に関連して、室町時代の日蓮宗や一向宗に関して述べた次の文X・Yについて、その正誤の組合せとして正しいものを、下の1~4のうちから一つ選び、番号で答えよ。

X 日蓮宗は京都の町衆の間にも広がり、彼らは法華一揆を結んだ。

Y 一向宗(浄土真宗)は本願寺の楽西の布教によって各地に広まった。

- 1 X 正 Y 正 2 X 正 Y 誤
3 X 誤 Y 正 4 X 誤 Y 誤

問9 下線部(キ)に関連して、織田信長にかかわる次の資料I・IIに関して述べた下の文a~dについて、正しいものの組合せを、下の1~4のうちから一つ選び、番号で答えよ。



- a Iは室町幕府を滅ぼした後に使用した「日本国王」の印判である。
b Iは上洛の意志を示して使用した「天下布武」の印判である。
c IIは今川義元の軍を破った桶狭間の戦いを描いた絵画である。
d IIは武田勝頼の軍を破った長篠合戦を描いた絵画である。

- 1 a・c 2 a・d 3 b・c 4 b・d

問10 下線部(ク)に関連して、次の史料はキリスト教に対する方針を転換した豊臣秀吉が、1587年に博多で出した法令の一部である。この法令は何とよばれるか、答えよ。

史料

- 一 日本ハ神国たる処、きりしたん国より邪法を授け候儀、太^{しん}以て然るべからず候事。
一 黒船の儀ハ商売の事に候間、各別に候の条、年月を経、諸事売買いたすべき事。

(松浦文書)

問11 下線部(ケ)に関連して、豊臣秀吉による刀狩令では、没収した武器は大仏の釘やかすがいに用いられるとされた。この大仏と大仏殿は短期間で倒壊・焼失し、後に豊臣秀頼によって再建されたが、その際に奉納した梵鐘の銘文「国家安康」「君臣豊楽」が問題となり、豊臣家が滅亡に追い込まれるきっかけとなった。この大仏が造立された寺院の名称を答えよ。

2 中世の日中関係に関する次の文章A～Cを読み、下の問い(問1～11)に答えよ。(史料は、一部省略したり、書き改めたりしたところもある。)(配点 25)

A 10世紀初め、中国では唐が滅亡した。その後、五代十国の混乱期を経て宋が中国を再統一した。日本は宋との間に正式な国交を開かなかったが、(ア)博多に来航した宋の商人を大宰府の鴻臚館に滞在させた。当初は、朝廷が優先的に「A」を購入していたが、やがて11世紀後半になると宋の商人は私的取引を盛んに行うようになり、博多におかれた「唐房」とよばれる宋の商人の居留地で活動した。このような状況に注目したのが平氏である。平忠盛は肥前国神埼荘の預所であったが、博多に使者を遣わして宋の商人と貿易を行って蓄財に励むとともに、「A」を院に献上することで宮廷での地位を高めた。平忠盛の築いた莫大な財産と宮廷での地位を引き継いだ(イ)平清盛も宋との貿易を積極的に推進する政策をとった。平氏政権崩壊後、鎌倉幕府のもとでも日宋間に正式な国交は開かれなかったが、(ウ)鎌倉幕府も貿易を承認したため、両国の通商交流は盛んであった。

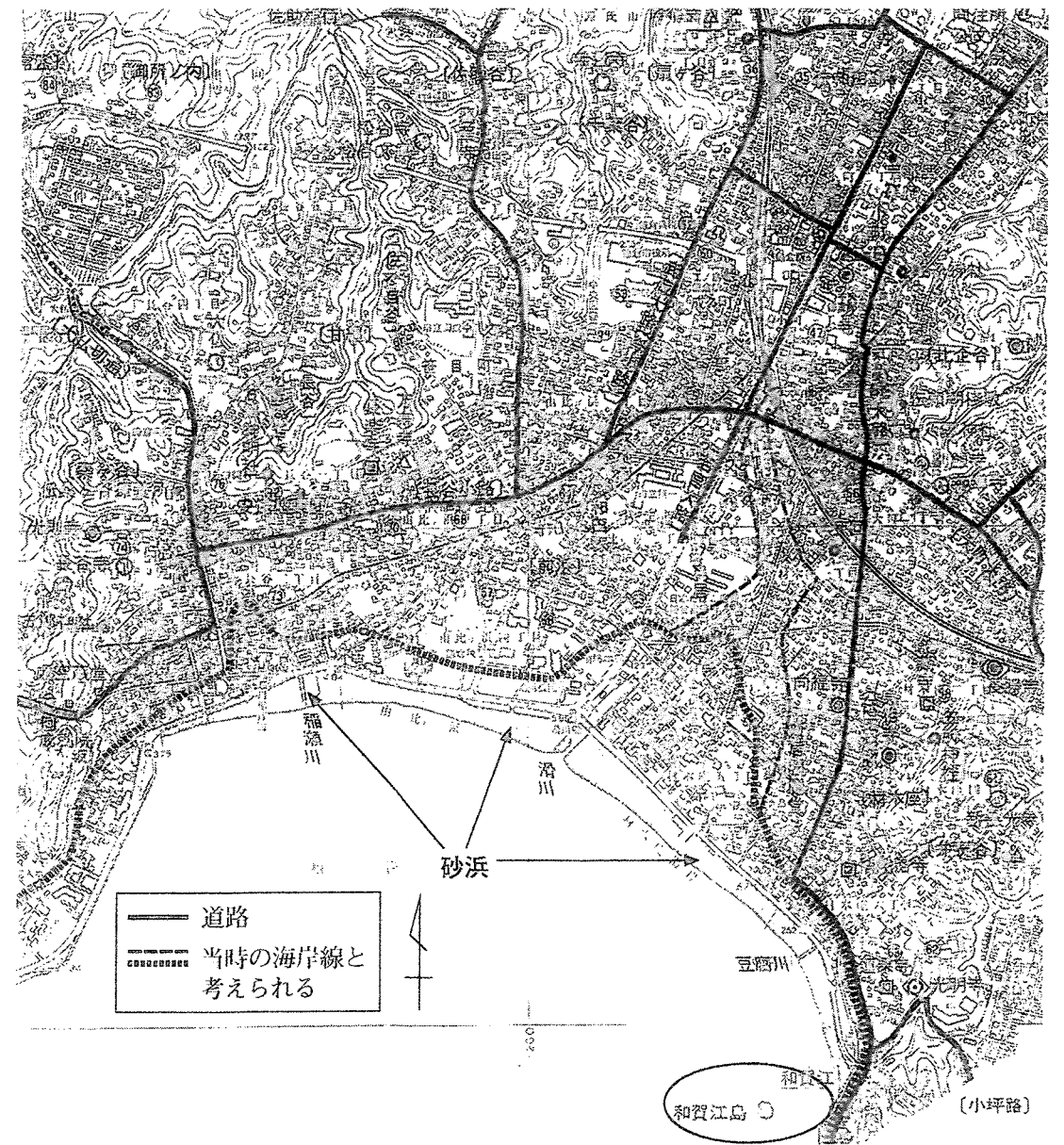
- 問1 空欄 A に入る、古代以降に中国から入ってきた書籍や工芸品などの総称を何というか、漢字2字で答えよ。
- 問2 下線部(ア)に関連して、1019年に中国大陸の沿海州地方の女真人が、対馬・杵岐を経て九州北部に来襲するという事件が起こったが、この女真人のことを何とよんでいたか。その名称を漢字2字で答えよ。
- 問3 下線部(イ)に関して述べた文として正しいものを、次の1～4のうちから一つ選び、番号で答えよ。
 - 1 武士として初めて摂政となった。
 - 2 娘の徳子を安徳天皇の中宮に入れた。
 - 3 摂津国の大輪田泊を修築した。
 - 4 春日神社に装飾経を奉納し、一門の繁栄を祈願した。

15

7

問4 下線部(ウ)に関連して、次の地図は鎌倉海岸の地図であり、東南部には人工島の和賀江島がある。現在はその大半が海中に沈んでいるが、鎌倉幕府は船舶を停泊させるために海に突き出す形でこれを築造した。鎌倉は海に面した都市であったにもかかわらず、なぜこのような施設が築造されたのか。次ページの史料を参考に鎌倉の海岸の地形的な特徴にふれながら、下の語句を必ず使用し、解答欄の書き出しに続けて、20字以内で説明せよ。

鎌倉の海岸は



大型船

8

史料

(建保五(1217)年四月)十七日,甲子(癸亥)。晴れ。宋人の(陳)和卿が唐船を造り終えた。今日,数百人の人夫を諸御家人から差し出させ,その船を由比浦に浮かべることとなった。(実朝は)すぐに出かけられた。右京兆(北条義時)がその場に臨んで監督され,信濃守(二階堂)行光が今日の行事(注1)となった。和卿の指示に従い,人々は午の刻から申の刻の終わりまで力の限り船を引いた。しかしこの場所の地形は唐船が入りできるような浦ではなかったの、浮かべることができなかつた。そこで(実朝は)帰られ,その船は空しく砂浜で朽ちたという。

(『吾妻鏡』)

(注1) 行事:責任者

(貞永元(1232)年七月)十二日, …今日,勸進聖人の往阿弥陀仏(注2)の申請により,船舶の着岸に支障がないよう和賀江島を築くという。泰時は特に喜ばれて協力され,諸人もまた助成したという。

(『吾妻鏡』)

(注2) 往阿弥陀仏:生没年未詳。勸進聖。これ以前に筑前国の鐘御崎にも人工の島を築いている

B 13世紀初めにモンゴル諸部族を統一して成立したモンゴル帝国は,周辺地域へ軍事的に進出し,ユーラシア大陸の東西にまたがる広大な帝国を形成した。第5代皇帝となった **B** は都を大都に移し,国号を中国風の元に改め,朝鮮半島の高麗を全面的に服属させた。元は,日本に対しても使者を遣わして朝貢を求めたが,日本は元の要求を拒否した。そのため元は,2度にわたって日本遠征を行ったが,暴風雨などの影響もあり失敗に終わった。一方,(工)蒙古襲来という政治的な緊張にもかかわらず,元は経済政策を重視し貿易を禁止する方針はとらなかつたことから,日本と元の両国間の貿易は盛んであった。1976年に韓国の新安沖で発見された沈没船は14世紀前半の船と考えられ,船は大量の中国産 **C**などを積載していた。積荷に付けられた木札には「東福寺」と記されているものがあることなどから,この船は(オ)京都の東福寺の修理造営のために元に派遣され,帰国途中に沈没した貿易船ではないかと考えられている。

問5 空欄 **B** **C**に入る語句の組合せとして正しいものを,次の1~4のうちから一つ選び,番号で答えよ。

- 1 B フビライ=ハン C 陶磁器 2 B フビライ=ハン C 刀剣
- 3 B チンギス=ハン C 陶磁器 4 B チンギス=ハン C 刀剣

問6 下線部(工)に関連して,蒙古襲来及びその前後の動向に関して述べた次の文I~IIIについて,古いものから年代順に正しく配列したものを,下の1~6のうちから一つ選び,番号で答えよ。

- I 元軍が東路軍・江南軍の二手に分かれて襲来した。
 - II 鎮西探題が設置され,九州の軍事・行政・裁判を統括した。
 - III モンゴルに服属した高麗で三別抄の乱が起こった。
- 1 I-II-III 2 I-III-II 3 II-I-III
 - 4 II-III-I 5 III-I-II 6 III-II-I

問7 下線部(オ)に関連して,これと同様の目的で,かつて蘭溪道隆によって開かれた寺院の再建費用を得るため,鎌倉幕府が元に派遣した貿易船の名称を答えよ。

9

10

C 1368年、朱元璋は漢民族の王朝である明を建てた。明は中国大陸の沿岸を襲う倭寇に対抗し、沿海地域の治安を回復するために海禁政策をとって民間商人の海外貿易を禁止した。また外国船の入港を周辺諸国からの朝貢使節のみに許可し、明を中心とする国際秩序の回復をめざして日本にも通交と倭寇禁圧を求めてきた。足利義満はこれに応じて正式な国交を開き、(カ)日明貿易(勘合貿易)が開始された。この貿易は明から大量の銅銭が輸入されるなど、(キ)日本の経済に大きな影響を与えた。さらにこの貿易は朝貢形式であったため、明での滞在費や運搬費は明側が負担したことにより(ク)日本にとって貿易による利益は大きかった。しかし、幕府の衰退によって貿易の実権はしだいに(ケ)大内氏と細川氏に移り、最終的には大内氏が貿易を独占するようになった。その大内氏も1551年に陶晴賢によって滅ぼされ、勘合貿易は終了した。

問8 下線部(カ)に関連して、日明貿易(勘合貿易)に関して述べた次の文X・Yについて、その正誤の組合せとして正しいものを、下の1~4のうちから一つ選び、番号で答えよ。

X 遣明船は、私貿易船と区別するため、明から交付された勘合を所持していた。

Y 4代将軍の足利義持は貿易を中断したが、6代将軍の足利義教が貿易を再開した。

1 X 正 Y 正 2 X 正 Y 誤

3 X 誤 Y 正 4 X 誤 Y 誤

問9 下線部(キ)に関連して、室町時代の経済について述べた文として、誤っているものを次の1~4のうちから一つ選び、番号で答えよ。

1 明の銅銭である永楽通宝などが使用された。

2 土倉・酒屋とよばれる高利貸業者が活動した。

3 産業の発達に伴い、市の開催日が増加し、六斎市もみられるようになった。

4 室町幕府は、私鑄銭の鑄造を奨励する撰銭令を出した。

問10 下線部(ク)に関連して、次の史料は興福寺大乘院門跡の尋尊が遣明船に随行した商人の談話を記録したものである。この史料に関して述べた下の文a~dについて、正しいものの組合せを、下の1~4のうちから一つ選び、番号で答えよ。

史料

文明十二年(1480年)十二月二十一日……唐糸一斤二百五十目(注1)なり。日本の代五貫文(注2)なり。西国の備前・備中に於いては、銅一駄(注3)の代は十貫文なり。唐土の明州・雲州に於いて糸ニこれを替へば、四十貫五十貫ニ成る者なりと云々。

(『大乘院寺社雜事記』)

(注1) 目：重量の単位で「匁」のこと

(注2) 貫文：「1貫文」は「1000匁」に相当する。「五貫文」は「5000匁」

(注3) 駄：馬一頭に背負わされる荷物の重量からできた単位

a 史料中の「唐糸」とは、綿糸のことをさしている。

b 史料中の「唐糸」とは、生糸のことをさしている。

c 明の銅が日本に輸入され、備前・備中で使用された。

d 銅が日本から輸出され、「唐糸」にかえて持ち帰れば、大きな利潤となった。

1 a・c 2 a・d 3 b・c 4 b・d

問11 下線部(ケ)に関して、大内氏と細川氏が中国の港で争った事件を何というか、答えよ。

「 〳 〵 」

11

12

3 原始・古代の身分制度や税制に関する次の文章 A・B を読み、下の問い（問 1～11）に答えよ。（史料は、一部省略したり、書き改めたりしたところもある。）（配点 25）

A 縄文時代晩期に始まった水稻農耕は、弥生時代になると西日本一帯に広まった。水田の開発や貯蔵倉の管理、(ア)祭祀などの中心となって集落を統率したりするために各地に指導者や支配者があられ、やがて小国が成立していった。中国の史書である「魏志」倭人伝に記された邪馬台国の様子からも、(イ)当時、身分の差がうまれていたことをうかがい知ることができる。このような小国が各地に誕生し、それらを緩やかに統一する政権が成立したことを背景に、3世紀中頃には瀬戸内海沿岸から畿内にかけて各地に古墳が出現した。当時の首長たちは、壮大な古墳をつくり、その力を誇示した。さらに5世紀になると、(ウ)いわゆる倭の五王が畿内を中心に九州中部から関東までの広範囲に勢力を広げた。こうして国内の統一が進み、ヤマト政権では蘇我氏や平群氏など大和の地名を氏の名とする豪族のうち、特に有力なものは **A** に任じられた。

6世紀末から7世紀前半には推古天皇のもと、蘇我馬子や厩戸王らが冠位十二階や憲法十七条を定めるなど中央行政機構の整備を進めた。また『日本書紀』によれば、**B** の翌年に身分に応じて古墳の規模などを制限する「大化の薄葬令」が出された。以後、権威の象徴の一つであった古墳は急激に衰退し、その後中央政権は(エ)東アジア情勢の影響を受けつつ、戸籍を作成するなど天皇を中心とした国家体制づくりを加速していった。

問1 空欄 **A** **B** に入る語句の組合せとして正しいものを、次の1～4のうちから一つ選び、番号で答えよ。

- 1 A 大連 B 磐井の乱 2 A 大連 B 乙巳の変
3 A 大臣 B 磐井の乱 4 A 大臣 B 乙巳の変

問2 下線部(ア)に関連して、4～9世紀の祭祀遺跡が数多く分布し、別名「海の正倉院」ともよばれ、2017年7月に世界文化遺産への登録が決定された九州の北方玄界灘に浮かぶ島を何というか、3字で答えよ。

問3 下線部(イ)に関連して、「魏志」倭人伝では、邪馬台国にあった身分制度のなかで、被支配者階級である下戸に対して、支配者階級は何というか、答えよ。

問4 下線部(ウ)に関連して、次の史料に関して述べた下の文を、下のa～fの語句・記述を組合せて完成させた場合、最も適当なものを、下の1～8のうちから一つ選び、番号で答えよ。

史料

辛亥の年七月中に記す。乎獲居臣の先祖の名は意富比埜で、其の児は多加利足尼で、…（中略）…其の児の名は乎獲居臣である。代々、親衛隊の長となって大王に仕え今に至った。獲加多支鹵の大王の朝廷が斯鬼宮に在った時、私は天下の統治を助けた。このよく鍛えた刀を作らせて私が大王に仕えた根源について記した。

この史料は埼玉県の

- a 江田船山古墳
b 稲荷山古墳

から出土した遺物から読み取れる銘文の通釈である。史料中の「獲加多支鹵の大王」とは

- c 倭王讚
d 倭王武

にあたると思われるが、この遺物は

- e ヤマト政権からこの地に贈られたもの
f ヤマト政権に仕えていたこの地の支配者が制作させたもの

であり、この地までヤマト政権の勢力が及んでいたことを裏付ける史料である。

- 1 a-c-e 2 a-c-f 3 a-d-e 4 a-d-f
5 b-c-e 6 b-c-f 7 b-d-e 8 b-d-f

13

14

史料

反逆者の **D** は、少年時代から凶悪であったが、長じるに及んでますます人をいつわっておとし入れるようになった。その父故式部卿(注1)は常に **D** を朝廷から排除しようと願っていたが、朕はそれを聞き入れることができず、かばい保護して今に至ったのである。ところが、都で親族をそしりもめ事を起こした。そこで、遠方に遷して彼が改心することを願っていた。しかし、今、わがまま勝手に凶悪な反逆をして、人民を騒がし混乱させていると聞く。この不忠不孝は天地のことわりに違背し(注2)、神明に見捨てられ **D** が滅ぶことは目前に迫っている。…(中略)…もし、かつて **D** と同心して、謀反を起こした者でも、今、心を改め過ちを悔いて **D** を斬り殺し、人々を安息させたならば、無位・無官の者でも五位以上を与え(注3)、官人には位階に応じて更に高い官位を加給しよう。

(『統日本紀』)

(注1) 式部卿：藤原氏4兄弟の一人、藤原宇合のこと。そのため宇合の一族を式家とよぶ

(注2) この不忠不孝は天地のことわりに違背し：この部分から推して、聖武天皇は「凶悪な反逆」を「謀反」と考えていると思われる

(注3) 五位以上を与え：貴族に列すること

問9 下線部(キ)に関連して、この教育機関を何というか、答えよ。

問10 下線部(ク)に関連して、当時の税に関して述べた文として正しいものを、次の1~4のうちから一つ選び、番号で答えよ。

- 1 徴税の基本台帳として計帳が毎年作成された。
- 2 租が課される口分田の広さは男女とも原則として同じであった。
- 3 都での労役にかえて布を納める税は調とよばれた。
- 4 徴収された租の大部分は、班田農民によって都まで運ばれた。

問11 下線部(ケ)に関連して、古代の周辺地域に対する諸政策に関して述べた次の文a~dについて、正しいものの組合せを、下の1~4のうちから一つ選び、番号で答えよ。

- a 阿倍比羅夫が東北地方に派遣され、多賀城を築いた。
- b 坂上田村麻呂が東北地方に派遣され、鎮守府を胆沢城へ移した。
- c 九州南部に新たに出羽国が設けられた。
- d 九州南部に居住していた人々は隼人とよばれた。

- 1 a・c 2 a・d 3 b・c 4 b・d

4 世界遺産に登録されている古代の建築物に関する次の文章A~Cを読み、下の問い(問1~11)に答えよ。(配点 25)

A 1993年、法隆寺の建築物は「法隆寺地域の仏教建造物」として世界遺産に登録された。

仏教は公式には6世紀半ば頃に百済より伝えられ、当初、渡来人や彼らとの結び付きの強い蘇我氏らによって信仰された。6世紀末に蘇我氏が政治の実権を掌握すると仏教興隆がはかられ、蘇我馬子が一族の氏寺として **A** を建立したのをはじめ、豪族の権威の象徴として古墳造営にかわって寺院建立が広まっていった。

現在の法隆寺の全体像は、五重塔や金堂などがある西院伽藍と夢殿がある東院伽藍に分かれ、(ア)西院伽藍は現存する世界最古の木造建築物といわれている。また、法隆寺には飛鳥時代以降の美術工芸品が数多く所蔵されており、特に(イ)金堂の釈迦三尊像は中国の北魏時代の仏像様式に源流をたどることができる。その表情は面長な顔つきでしっかりと見開かれた眼と大きな鼻が特徴的であり、口元にはアルカイックスマイルを浮かべている。

問1 空欄 **A** に入る寺院名を答えよ。

問2 下線部(ア)に関連して、厩戸王は飛鳥から離れた斑鳩の地で宮を造営し、法隆寺を建てた。その理由についてはさまざまな説があるが、次に述べられたある生徒の考察は、あとの資料Ⅰ～Ⅲのどれを用いて考察されたものか、その組合せとして最も適当なものを、あとの1～7のうちから一つ選び、番号で答えよ。

ある生徒の考察

厩戸王は、軍事や外交を積極的に行っていたことがうかがえます。積極的に海外から情報を収集し、活発な交流をはかるためには飛鳥では海から遠く、これを克服するためには外港である難波と飛鳥を結ぶ要衝の地、斑鳩に拠点を設ける必要があったと思います。斑鳩は、飛鳥から奈良盆地を経て難波の港に出る際の重要な中間地点です。

また、斑鳩は水陸交通の要衝地であるといえます。大陸と往來する船は難波に入港し、飛鳥に向かう使者は上陸後、大和川(飛鳥川)をさかのぼります。その途中に斑鳩があり、その付近は複数の川が合流していることから、斑鳩は情報を収集するにも、事前に折衝する場所としても適していたと考えられます。飛鳥と斑鳩の間は道(筋違道)で結ばれていることから斑鳩は多くの人が行き交う場であったことが考えられます。

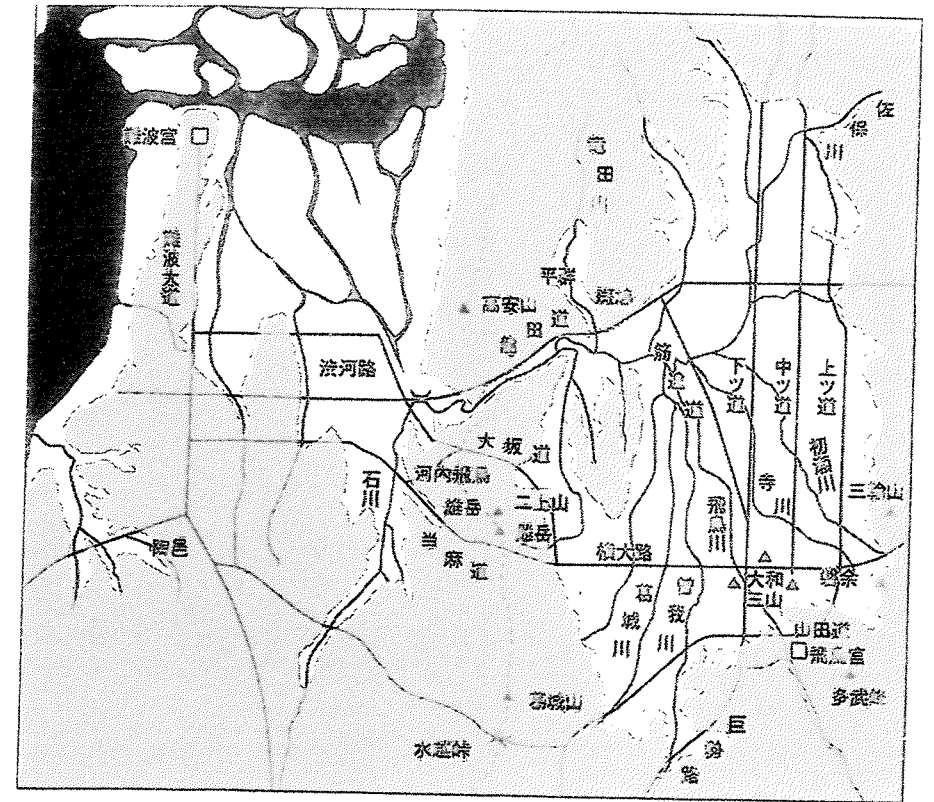
これらのことから斑鳩は、政治の中心地である飛鳥とともに、推古朝には軍事・外交上欠かせない地であったことがわかります。

資料Ⅰ 『日本書紀』にみられる推古朝の対外政策

602年	厩戸王の弟(来目王子)を将軍として新羅征討を企てるも、将軍の病により中止
603年	厩戸王の弟(当摩(麻)王子)を将軍として新羅征討を企てるも、将軍の妻が没し中止
607年	小野妹子を隋に遣わす 斑鳩の地に法隆寺を建立
608年	隋から裴世清を団長とする使節団が来日する

19

資料Ⅱ 難波と大和の古道



(『建築から見た日本古代史』武澤秀一より作成)

資料Ⅲ 法隆寺と藤ノ木古墳の関係



(解説)

藤ノ木古墳は、法隆寺から西に約350 m離れた丘陵にある直径約50 mの円墳である。石棺内には成人男性の可能性が高い2体の遺体が合葬されていた。古墳の被葬者は、権力争いの末、蘇我馬子に殺された穴穂部皇子(厩戸王の叔父)らとする説が有力である。

(世界文化遺産 法隆寺 高田良信より作成)

- 1 Iのみ
- 2 IIのみ
- 3 IIIのみ
- 4 IとII
- 5 IとIII
- 6 IIとIII
- 7 IとIIとIII

20

問3 下線部(イ)に関して、この像をつくったといわれる飛鳥時代の仏師は誰か、人名を答えよ。

B 東大寺は「古都奈良の文化財」の一部として、1998年に世界遺産に登録された寺院であり、その大仏殿は江戸時代の再建であるが世界最大級の木造建築物として評価されている。


東大寺の盧舎那仏は、華嚴経で大宇宙の中心とされている仏であり、聖武天皇や光明皇后は、(ウ)唐の仏教政策にならってこれを造立した。大仏の造立は、近江紫香楽の地での着工を機に、(エ)当時民衆から支持されていた僧も弟子らを率いて庶民に対しても建立事業への参加や寄付を勧誘する活動に携わったといわれている。

東大寺の広大な敷地には、盧舎那仏がおかれている金堂(大仏殿)のほか、南大門、法華堂(三月堂)などが配置されており、なかでも(オ)法華堂(三月堂)に安置されている仏像は、この時代を代表する仏像彫刻である。また、(カ)正倉院宝庫には美術工芸品が多数おさめられている。

問4 下線部(ウ)に関連して、唐では金光明経の流行に伴い、この経を広め、また読誦し、正法をもって皇帝(国王)が施政すれば、功德として国が守護されるという考え方が台頭した。聖武天皇はこの思想に基づいて、仏教の力により社会不安を除こうと大がかりな事業を諸国に実施した。この思想の名称を明らかにしながら、これに基づいて聖武天皇が大仏造立とともに諸国に命じた内容について、30字以内で述べよ。

問5 下線部(エ)に関して、民間への布教により政府から弾圧を受けていたが、諸国をまわりながら架橋などの社会事業にも尽力し、大仏造立に協力して後に大僧正に任じられた僧は誰か、人名を答えよ。

問6 下線部(オ)に関して、次の写真甲・乙に関して述べた下の文a~dについて、正しいものの組合せを、下の1~4のうちから一つ選び、番号で答えよ。



- a 甲は、執金剛神像である。
 - b 甲は、不空絹索観音像である。
 - c 乙は、乾漆像とよばれる技法で制作された。
 - d 乙は、塑像とよばれる技法で制作された。
- 1 a・c 2 a・d 3 b・c 4 b・d

問7 下線部(カ)に関連して、正倉院宝庫とその宝物に関して述べた文として誤っているものを、次の1~4のうちから一つ選び、番号で答えよ。

- 1 正倉院宝庫の一部(北倉と南倉)は、断面が三角形の長材を用いた校倉造である。
- 2 正倉院宝物の中心は、光明皇太后が聖武太上天皇の死後、その遺品を東大寺に献納したものである。
- 3 正倉院宝庫には仏像や経典を納めるための玉虫厨子など、すぐれた工芸美術品が残されている。
- 4 正倉院宝庫には螺鈿紫檀五絃琵琶など、国際性豊かな宝物が数多く残されている。

[13]

21

22

C 1994年に「古都京都の文化財」として世界遺産に登録された寺院の代表的なものとして、東寺や平等院がある。

東寺は、その位置関係から **B** ともいわれ、もともとは平安京への遷都に際して都を守るために、羅城門をはさんで西寺とともに東西に建てられた官寺だった。しかし、まだ完成しないうちに嵯峨天皇から (キ)空海に授けられ、真言密教専修の寺となった。空海は、唐で学んだ知識を注ぎ込んでこの寺を構想し、特に講堂の立体曼荼羅像は真言密教の世界観を映し出している。

平安貴族の (ク)浄土信仰の有様を今に伝えるのが平等院鳳凰堂である。末法の世に入ったとされる1052年の翌年、関白藤原頼通は、宇治に極楽浄土の楼閣園地をイメージした (ケ)阿弥陀堂を建立した。平等院は、父である藤原道長の建てた **C** のような豪華なものではないが、本堂・法華堂・塔などのある壮大な伽藍である。また、この阿弥陀堂の本尊である阿弥陀如来坐像は、寄木造の技法を完成した仏師定朝の作品である。

問8 空欄 **B** **C** に入る語句の組合せとして正しいものを、次の1~4のうちから一つ選び、番号で答えよ。

- 1 B 左大寺(左寺) C 法成寺 2 B 左大寺(左寺) C 法勝寺
- 3 B 右大寺(右寺) C 法成寺 4 B 右大寺(右寺) C 法勝寺

問9 下線部(キ)に関して述べた次の文X・Yについて、その正誤の組合せとして正しいものを、下の1~4のうちから一つ選び、番号で答えよ。

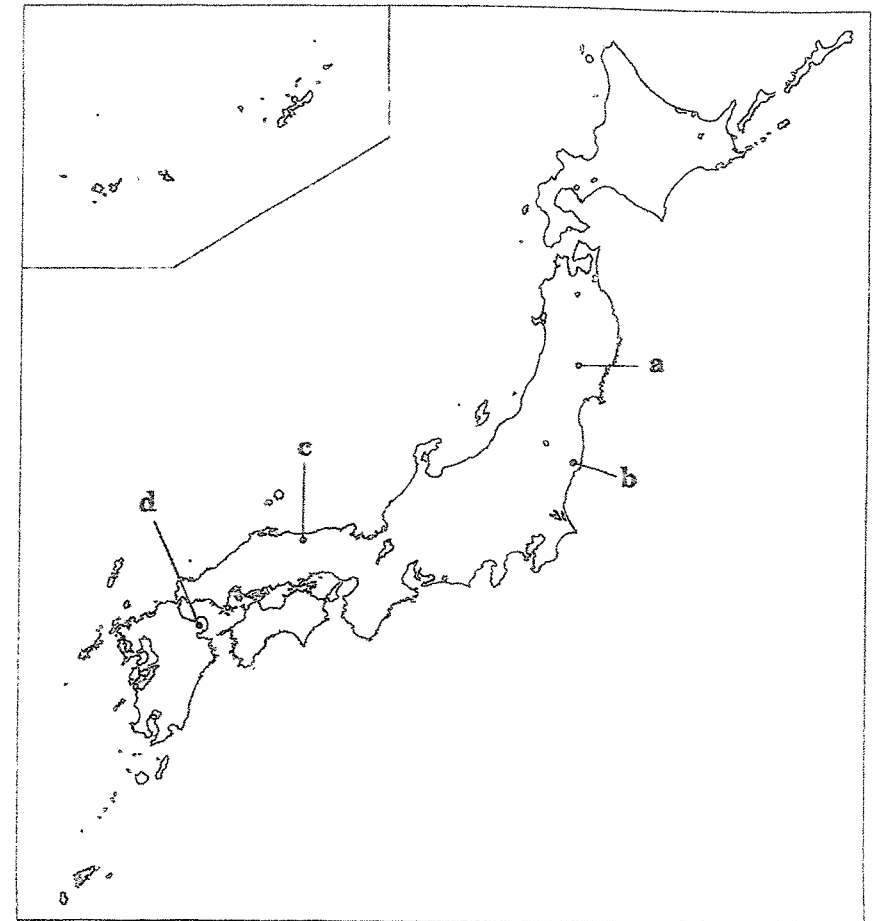
X 高野山に女人高野とよばれる室生寺を建立した。
 Y 綜芸種智院を設置して、庶民にも入学を認めた。

- 1 X 正 Y 正 2 X 正 Y 誤
- 3 X 誤 Y 正 4 X 誤 Y 誤

問10 下線部(ク)に関連して、阿弥陀仏を信仰し、極楽浄土へ往生することを願う浄土信仰の教えを説いた、源信(恵心僧都)の著書は何か、答えよ。

問11 下線部(ケ)に関連して、浄土信仰はしだいに地方へも広がり、それにともない阿弥陀堂も広い範囲で建立されるようになった。その代表的な阿弥陀堂である次のX・Yと、その所在地を示した下の地図中の場所a~dとの組合せとして正しいものを、下の1~4のうちから一つ選び、番号で答えよ。

X 中尊寺金色堂 Y 富貴寺大堂



- 1 X-a Y-c 2 X-a Y-d
- 3 X-b Y-c 4 X-b Y-d

[14]

23

24