

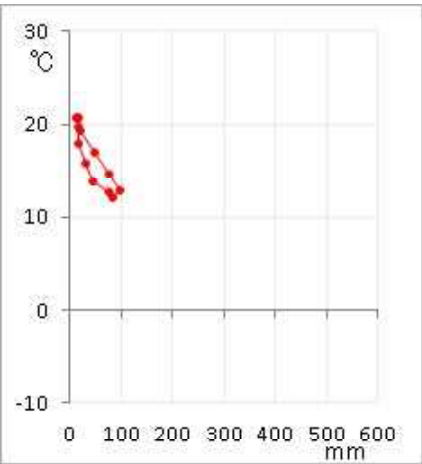
☆ 答えは全て解答欄に記入しなさい。また、漢字で書くべき答えは、漢字で答えなさい。(国名は略称でよい)

[1] 次の問いに答えなさい。

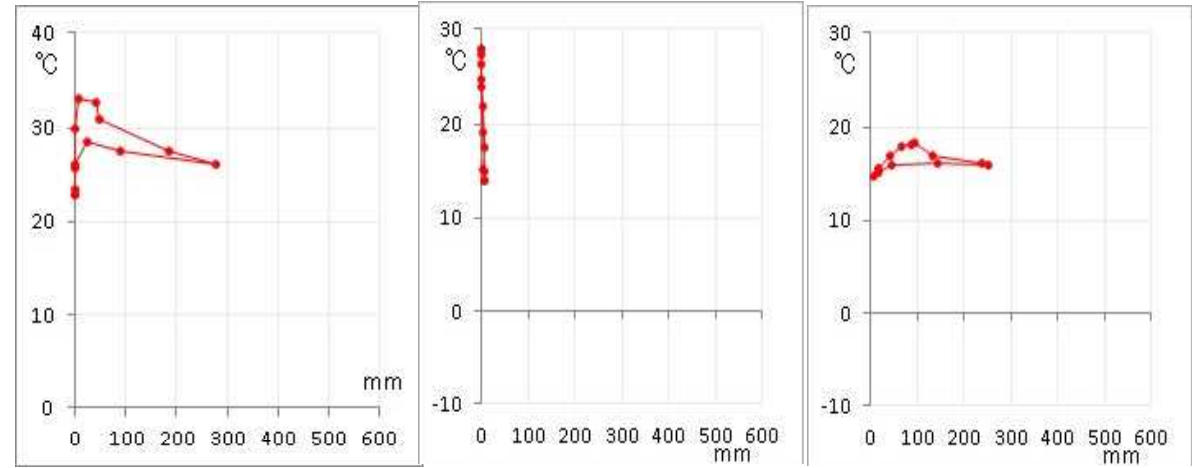
問1 右図のc・d・g・hの気候は何か。(ケッペンの記号で答えてもよい)

問2 下のa～は、次に示す地点いずれかのグラフである。どの地点のものか、記号で答えなさい。

- ア アンジャメナ (チャド)
イ カイロ
ウ アディスアベバ (エチオピア)
エ ケープタウン



a

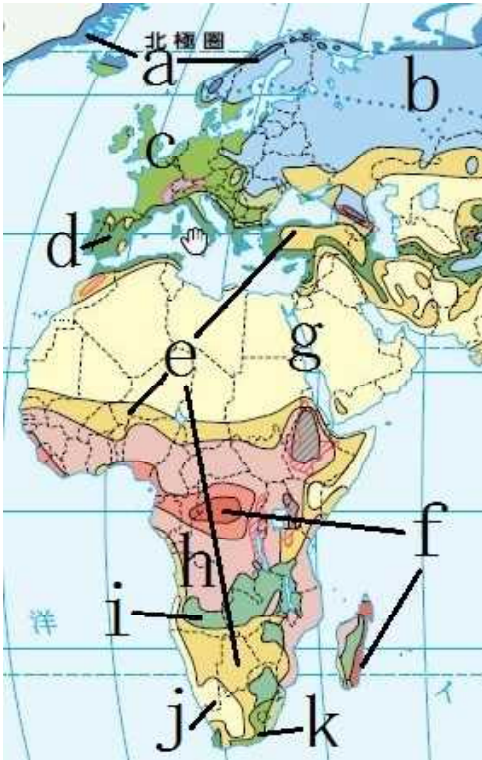


b

c

d

問3 下は、次に示す地域の耕地率・牧場牧草地率・森林率 (以上単位: %)・農業従事者1人あたりの農地面積 (単位: ha) を示している。文章を参考にして、



b アフリカ、c ヨーロッパを選び、記号で答えなさい。

森林率が多いのがヨーロッパと南米で、ヨーロッパは耕地率も多い。一人当たりの農地面積最大は半分以上が乾燥気候の大陸で牧草地率も高い。アジア・アフリカは北米より森林率が低く、アジアはアフリカより耕地率が高く、一人当たりの農地面積は少ない。

a アジア b アフリカ c ヨーロッパ d 北米 e 南米 f オーストラリア

	耕地率	牧場牧草地率	森林率	農業従事者1人あたりの農地面積
ア	5.3	43.3	22.6	127.5
イ	8.0	26.3	49.2	23.5
ウ	8.8	30.7	22.7	5.4
エ	11.9	16.6	33.1	32.5
オ	13.2	8.1	45.5	21.6
カ	17.9	34.9	19.2	1.6

問1 c d g h

問2 a b c d 問3 b c

[2] 右の地図を見て、下の問いに答えなさい。

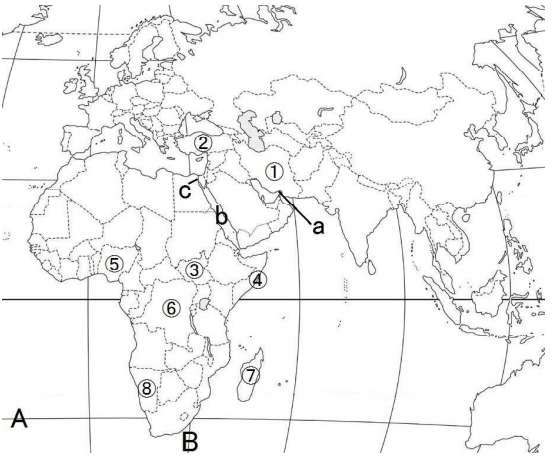
問1 A・Bについて、下の問いに答えなさい。

a Aの緯度 b Bの経度を答えなさい。

問2 a cについて、下の問いに答えなさい。

a 海峡の名前 c 運河の名前

問3 ④～⑧について、国名を答えなさい (略称でよい)。



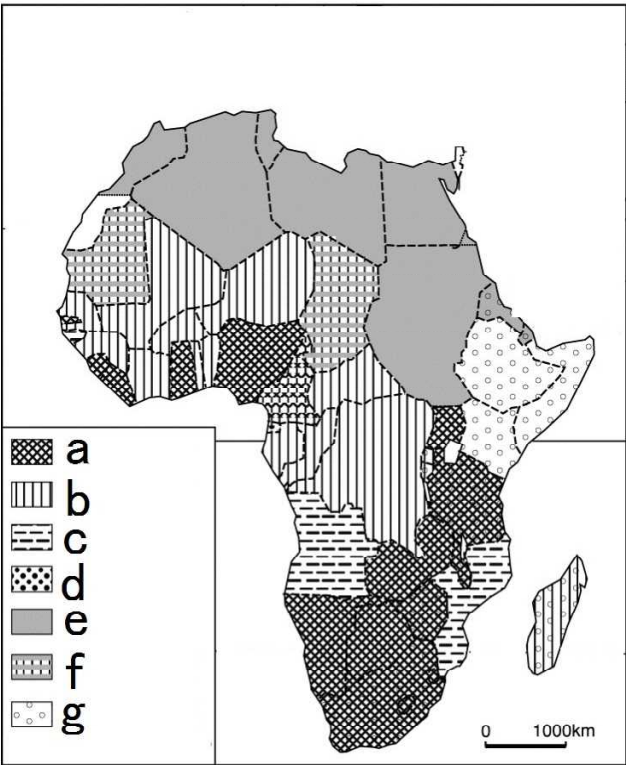
問1 a b

問2 a c 問3 ④ ⑤

〔4〕 地図を見て、問いに答えなさい。

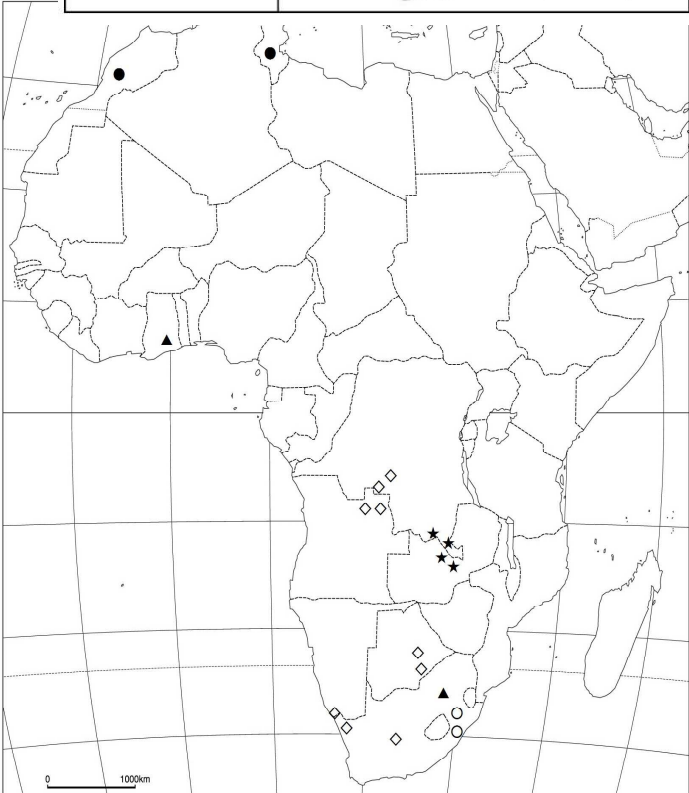
問1 右の地図は公用語を示している。
a・b・e・gの言語は何語か、下から選び、記号で答えなさい。

- ア ポルトガル語 イ 英語
ウ クルド語 エ スワヒリ語
オ アラビア語 カ フランス語



問1 a b e
..... g

問2 右下の地図は次に掲げる地下資源の分布を示している。●・・・a、◇・・・b、▲・・・c、★・・・dは何の資源分布を示しているか。下から選び、記号で答えなさい。
ア リン イ 金 ウ 銅
エ ダイヤモンド
オ ニッケル



問2 a b c
..... d

〔5〕 次の問いに答えなさい。

問1 下は、次に示す国の人口（万人）・国土面積（万平方km）・一人当たりのGNI（ドル）・耕地率（%）・森林率（%）を示している。
a～eに該当する国を次から選び、記号で答えなさい。（統計は2009年）

- ア エジプト イ アルジェリア ウ エチオピア エ ナイジェリア
オ コンゴ民主 カ 南アフリカ

	人口	面積	GNI／人	耕地率	森林率
a	3490	238	3620	3.5	1.0
b	6602	235	140	3.4	58.8
c	5011	122	5720	12.7	7.6
d	8283	110	220	14.2	12.9
e	8300	100	1580	3.5	0.1
f	15473	92	920	42.8	11.7

問2 下は次に示した国の日本への輸出入品目第1位～を示している。a～cに該当する国を次から選び、記号で答えなさい。

- ア アルジェリア イ エチオピア ウ 南アフリカ エ リベリア

	日本への輸出品目	日本からの輸入品目
a	白金・パラジウム・自動車	バストラック・一般機械・鉄鋼
b	コーヒー豆・ごま	バストラック・乗用車・一般機械
c	LNG・揮発油・原油	鋼管・一般機械・電気機器
d	銅くず・鉄鋼くず	貨物船・タンカー・一般機械

問1 a b c d e 問2 a b c

〔6〕 下の問いに答えなさい。

問1 下のA～の文章は、アフリカのいずれかの国について述べたものである。どの国について述べたものか、記号で答えなさい。
問2 下の文章の空欄c・eに適語を答えなさい。

- A 1967年、イボ族の独立宣言から始まるビアフラ内戦で150万人の餓死者・戦死者が生じた。
- B 多数派のフツ族と少数派のツチ族との間で内戦となり、100万の死者を出し、その後フツ族難民が国外に逃れた。復興は「奇跡」といわれる。
- C 一時期を除いて独立を保った国で、紀元前から王国が栄えたが、1974年共和国となった。アムハラ語と（c）教系コプト教の国である。
- D 1970年、アスワンハイダム completionによって小麦・綿花・米の生産が増大したが、問題点も生じている。石油の他、観光や海外労働者の送金が外貨収入元である。
- E 人種隔離政策の（e）政策を採ったが、その後放棄しマンデラ・デクラーク・ムベキにノーベル平和賞が贈られた。
- F 1990年に独立した国で、国名はベンゲラ海流による寒流性砂漠による。

問1 A B C D
..... E F

問2 c e

解答用紙

[1]

問 1 c ^{C f b} 西岸海洋性気候 d ^{C s} 地中海性気候 g ^{B W} 砂漠気候 h ^{A w} サバナ気候

問 2 a エ b ア c イ d ウ 問 3 a イ b ウ c エ d ア

問 4 b ウ c オ

[2]

問 1 a 南緯 3 0 度 b 東経 3 0 度 問 2 a ホルムズ海峡 c スエズ運河

問 3 ④ ソマリア ⑤ ナイジェリア ⑥ コンゴ民主 ⑦ マダガスカル

⑧ ナミビア

[3]

問 1 A 北緯 4 0 度 b アルプス山脈 c ピレネー山脈 あ 黒海

い ボスポラス海峡 ア ライン川 イ ドナウ川 問 2 エ

[4]

問 1 a イ b カ e オ g エ 問 2 a ア b エ c イ d ウ

問 3 a エ b イ c ア d ウ 問 4 a キ b サ c ウ d コ

[5]

問 1 a イ b オ c カ d ウ e ア 問 2 a ウ b イ c ア

問 3 a カ b エ c ウ d オ e ア 問 4 a ウ b エ c ア

問 5 a ア b イ c エ d オ 問 6 a ア b ウ c エ

問 7 a エ b イ c オ d ウ

[6]

問 1 A ナイジェリア B ルワンダ C エチオピア D エジプト

E 南アフリカ F ナミビア

問 2 c キリスト e アパルトヘイト

[7]

問 2 A スイス B フィンランド C イギリス D スペイン

E ドイツ F ベルギー

問 2 a ドイツ d バスク e トルコ f オランダ

[8]

問 1 イ 問 2 2 . 3 k m 問 3 ア ・ イ

年 組 番 名前

