

☆ 答えは全て解答欄に記入しなさい。また、漢字で書くべき答えは、漢字で答えなさい。

[4] 次の文章の空欄に適語を補充し、下の問いに答えなさい。

風・気温・降水量・湿度・日射量などを気候要素といい、緯度・高度 1・海流 2・隔海度など気候因子に影響を受ける。

風のうち、一年中、同じ方向に吹く風を(1)風という。亜熱帯高圧帯から赤道低圧帯吹く風を(2)、亜熱帯高圧帯から高緯度低圧帯に吹く風を(3)と呼ぶ。

一方、日本～インド付近をモンスーンアジアと呼び、冬のインドでは、(4：八方位で答えなさい)の風が吹き、夏に比べて雨の量は(5)い。

また、地方独特の風を(6)風(局地風)という。山越えの風が高温乾燥になることを(7)現象と言うが、(7)は本来春の(8)の局地風である。初夏(9)気団から吹く東北地方太平洋側に吹く北東風(10)や、アドリア海沿岸の冬の寒冷風(11)もこの一つである。

降水の条件は(12)気流と水蒸気量などで、熱帯低気圧も大量の降水をもたらす。熱帯低気圧をインド洋付近では(13)と呼ぶ。日本の夕立や熱帯のスコールは対流性降雨と呼ばれる。

問1 下線部1 気温の遞減率を0.65度C/100mとすると、標高2000mの地点は0mと比較して、何度低くなるか。

問2 下線部2 右下の図を見て、問いに答えなさい。

f f (北米大西洋岸からヨーロッパに向かう暖流)を何というか。

g g がつくる寒流性砂漠を何というか。

h hの寒流を何というか。

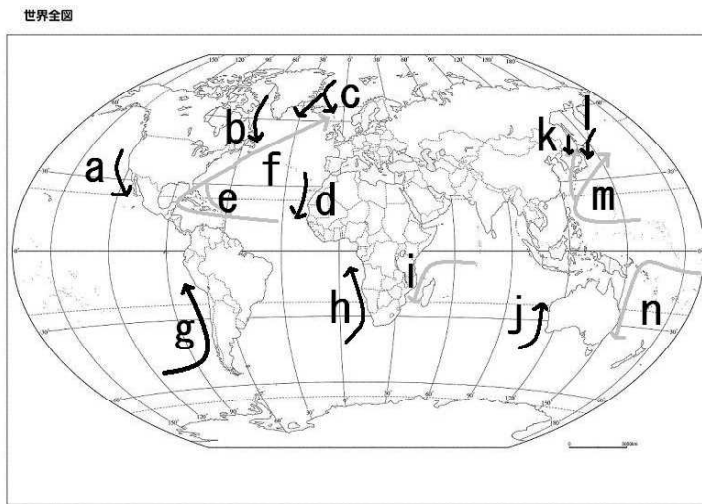
問3 右の図を見て、正しいものを下のア～から一つ選び、記号で答えなさい。

ア 北赤道海流・南赤道海流・反赤道海流は東流している。

イ 回帰線付近の大陸東岸・大陸西岸とも暖流の影響が強い。

ウ 暖流は北半球では時計回りである。

エ bの海流に氷山が含まれることがある。



問4 下の文章の空欄(a)～に次から適語を選び、記号で答えなさい。

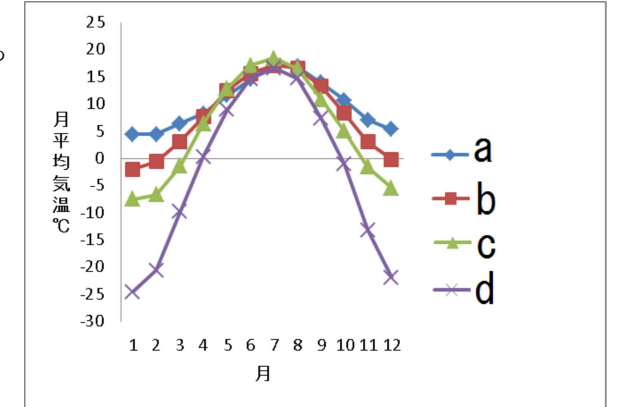
赤道付近と高緯度では、高緯度は年較差が(a)く、隔海度が小さいと年較差は(b)い。高緯度の大陸東岸と大陸西岸では、(c)は年較差が大きい

- ア 大きい      イ 小さい      ウ 内陸      エ 海岸  
オ 大陸東岸      カ 大陸西岸

問5 右のグラフのa b cの都市を次から選び、記号で答えなさい。

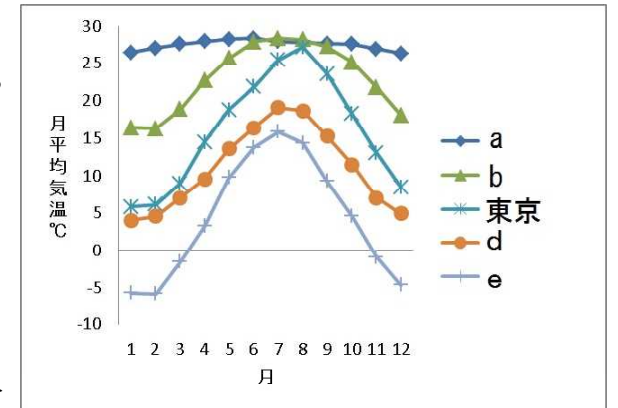
[chiri-tabi.com/category1/entry191.html](http://chiri-tabi.com/category1/entry191.html)

- ア ウランバートル(モンゴル)  
イ モスクワ(ロシア)  
ウ ロンドン  
エ プラハ(チェコ)



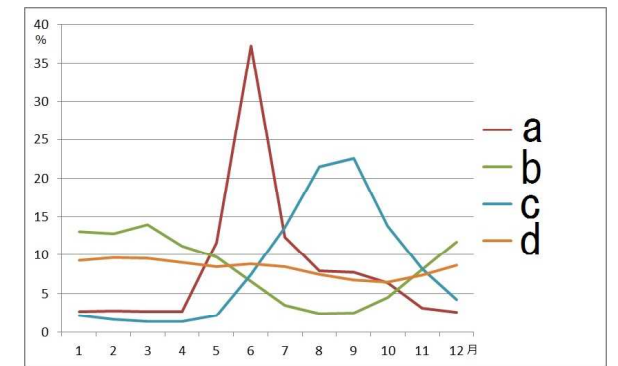
問6 右のグラフのa b dの都市を次から選び、記号で答えなさい。

- ア オスロ(ノルウェー)  
イ 香港  
ウ シンガポール  
エ パリ



問7 右は下に示した河川の月別流量比を示している。a b cの河川名を次から選び記号で答えなさい。

- ア メコン川(中国ベトナムラオスなど)  
イ ライン川(スイスドイツフランスなど)  
ウ エブロ川(スペイン)  
エ エニセイ川(ロシア)



[ 4 ]

1 ..... 2 ..... 3 ..... 4 .....

5 ..... 6 ..... 7 ..... 8 .....

9 ..... 10 ..... 11 ..... 12 .....

13 ..... 問 1 ..... °C .....

問 2 f ..... g ..... h ..... 問 3 .....

問 4 a ..... b ..... c ..... 問 5 a ..... b ..... c .....

問 6 a ..... b ..... d ..... 問 7 a ..... b ..... c .....

[ 4 ]

1 恒常 ..... 2 貿易風 ..... 3 偏西風 ..... 4 北東 .....

5 少な ..... 6 地方 ..... 7 フェーン ..... 8 スイス .....

9 オホーツク海 ..... 10 やませ ..... 11 ボラ ..... 12 上昇 .....

13 サイクロン ..... 問 1 13°C .....

問 2 f 北大西洋海流 ..... g アタカマ砂漠 ..... h ベンゲラ海流 ..... 問 3 イ .....

問 4 a ア ..... b イ ..... c オ ..... 問 5 a ウ ..... b エ ..... c イ .....

問 6 a ウ ..... b イ ..... d エ ..... 問 7 a エ ..... b ウ ..... c ア .....

年 組 番 名前

---